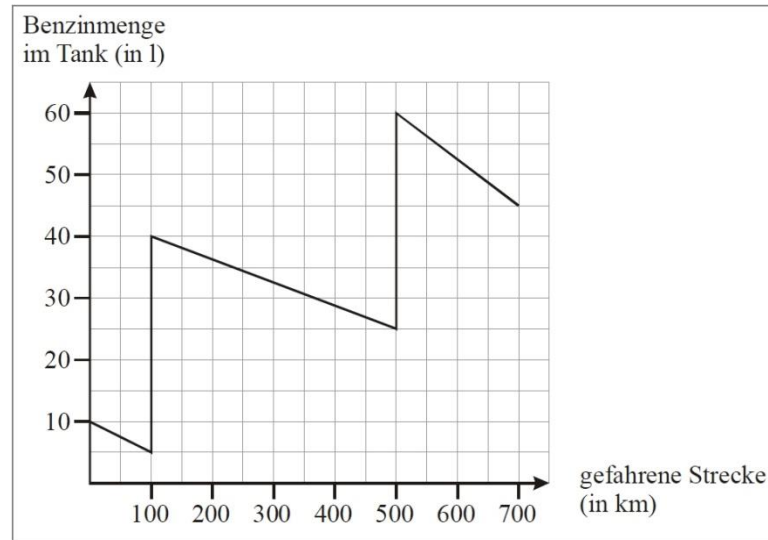


Name, Vorname: Prüfungsnummer:

Aufgabe 1

Der Graph in dem folgenden Diagramm zeigt die Tankfüllung eines (extrem wenig verbrauchenden) Pkws während einer Autobahnfahrt an.



- a) Gib an, wie viele Liter Benzin beim ersten Tankstopp (nach 100 km) gekauft wurden. (1)
- b) Gib den Benzinverbrauch pro 100 km zwischen dem ersten und dem zweiten Tankstopp an. (1)
- c) Auf welcher Teilstrecke ist der Benzinverbrauch pro 100 km am grössten? Begründe mit Hilfe des Graphen. (2)
- d) Berechne den durchschnittlichen Benzinverbrauch pro 100 km für die Gesamtstrecke. (1)

Name, Vorname: Prüfungsnummer:

Aufgabe 2

Beim Räuchern von Schinken wird mit einem durchschnittlichen Gewichtsverlust von 12% gerechnet. Wie schwer war ein Schinken vor dem Räuchern, der nach dem Räuchern 9,3 kg wiegt? Runde auf zwei Stellen nach dem Komma. (2)

Aufgabe 3

Ein Flugzeug hatte beim Start ein Gesamtgewicht von 54 t. Davon machten die Passagiere einen Achtel und der Treibstoff einen Drittel aus. Bei der Landung nach 2340 km macht der Anteil der Passagiere einen Sechstel des Gesamtgewichts aus. Wie weit hätte das Flugzeug fliegen können, wenn es den gesamten Treibstoff aufgebraucht hätte? Verwende die folgende Tabelle. (3)

	Passagiere	Treibstoff	Rest	Total
Start				54 t
Landung				

Name, Vorname: Prüfungsnummer:

Aufgabe 4

Es sei $z = 12345678910111213.....998999$ die Zahl, die entsteht, wenn man die Zahlen von 1 bis 999 aneinanderreicht.

a) Wie viele Ziffern hat die Zahl z ? (1)

b) Welche Ziffer ist am seltensten? (1)

c) Welches ist die 2018-te Ziffer der Zahl z ? (2)

Aufgabe 5

Ein Streifen hat 12 Felder, in die Zahlen aus der Grundmenge Q geschrieben werden sollen. Im ersten Feld steht die Zahl 2, im letzten Feld die Zahl 3 und im siebten Feld die Zahl 6. (2)

2						6					3
---	--	--	--	--	--	---	--	--	--	--	---

Das Produkt von vier Zahlen, die unmittelbar nebeneinander stehen gibt immer 18. Welche Zahl steht im zweiten Feld von links?

Name, Vorname: Prüfungsnummer:

Aufgabe 6

Auf wie viele verschiedene Arten kann man »LÖSUNGSWEG« von oben nach unten lesen? (2)

L
 ÖÖ
 SSS
 UUUU
 NNNNN
 GGGGGG
 SSSSSSS
 WWWWWWWW
 EEEEEEEEE
 GGGGGGGGGG

Beispiel:

L
 ÖÖ
SSS
 UUUU
 NNNNN
 GG**G**GGG
 SSS**S**SS
 W**W**WWWWWWW
 EEEEE**E**EE
GGGGGGGGGG

Name, Vorname: Prüfungsnummer:

Aufgabe 7

Beim Zerschneiden einer rechteckigen Pizza in n waagrechte und n senkrechte Streifen entstehen Eckstücke (E), reine Randstücke (R) und Innenstücke (I). Die Abbildung zeigt die Situation für $n = 4$. Es hat in diesem Fall 4 Eckstücke, 8 Randstücke und 4 Innenstücke.

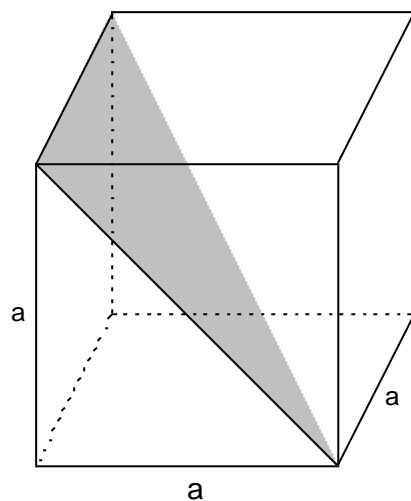
E	R	R	E
R	I	I	R
R	I	I	R
E	R	R	E

- a) Wie viele Innenstücke gibt es für $n = 100$? (1)
- b) Wie gross ist n , wenn die Zahl der Randstücke 36 ist? (1)
- c) Stelle einen Term auf, welcher die Zahl der Randstücke R in Abhängigkeit von n beschreibt. (1)

Name, Vorname: Prüfungsnummer:

Aufgabe 8

Bestimme einen Term für den Flächeninhalt der grau markierten Fläche in Abhängigkeit von a . Die Fläche liegt im Innern eines Würfels. (2)



Name, Vorname: Prüfungsnummer:

Aufgabe 9

In einer Bäckerei hat es drei Schachteln mit Törtchen zur Auswahl. Dabei ist jede Schachtel gleich gross, es sind aber wie abgebildet 1 oder 4 oder 16 Törtchen drin. In welcher Schachtel ist der Inhalt am schwersten,

a) wenn alle Törtchen gleich dick sind? (2)


b) wenn alle Törtchen zueinander ähnlich sind? (2)



Schachtel 1



Schachtel 2



Schachtel 3